

Name _____

MATCHING. Choose the item in column 2 that best matches each item in column 1.

1) Wiring schematic

A) Resistor

1) _____

2) 

B) 86

2) _____

3) GRY/WHT

C) Motor

3) _____

4) Relay power circuit


D) Diagram

4) _____

5) Reduces relay voltage spikes


E) Fuse

5) _____

6) 


F) Relay

6) _____

7) 

G) White tracer


7) _____

8) 

H) Gray tracer

I) LED

8) _____

9) 

J) Capacitor

K) 30

9) _____


10) 

L) Lamp

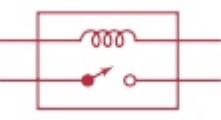
M) Battery

N) Connector

10) _____

11) 

11) _____

12) 

12) _____