

Name _____

MATCHING. Choose the item in column 2 that best matches each item in column 1.

1) Wiring schematic

A) Resistor

1) _____

2) 

B) 86

2) _____

3) GRY/WHT

C) Motor

3) _____

4) Relay power circuit


D) Diagram

4) _____

5) Reduces relay voltage spikes


E) Fuse

5) _____

6) 


F) Relay

6) _____

7) 


G) White tracer

7) _____

8) 

H) Gray tracer

8) _____

9) 


I) LED

9) _____

10) 

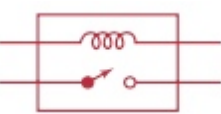
J) Capacitor

10) _____

11) 

K) 30

11) _____

12) 

L) Lamp

12) _____

M) Battery

N) Connector

Answer Key

Testname: MATCH 45

1) D

Page Ref: 515

2) N

Page Ref: 517

3) G

Page Ref: 515

4) K

Page Ref: 522

5) A

Page Ref: 523

6) L

Page Ref: 516

7) I

Page Ref: 516

8) A

Page Ref: 516

9) E

Page Ref: 516

10) M

Page Ref: 517

11) C

Page Ref: 518

12) F

Page Ref: 523